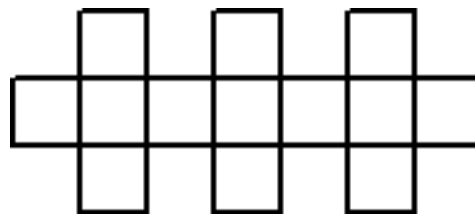
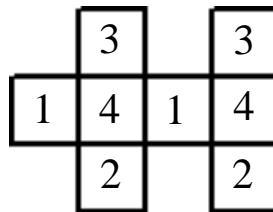


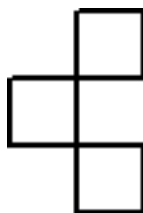
5. Zadatak SLAGALICA 100 bodova

Napiši proceduru koja slaže **slagalicu** sa slike. Procedura se mora zvati **slagalica :n :d**. Slagalicu slažemo kvadratićima kojima je duljina stranice **:d**. Za slaganje slagalice na raspolaganju imamo **:n** kvadratića. Kvadratiće slažemo redosljedom kako je na slici označeno. Prvo nacrtamo kvadratić označen brojem 1, zatim 2, pa 3, pa 4 i onda ispočetka 1, pa 2, pa 3, 4 i tako sve dok ne nacrtamo **ukupno :n kvadratića**. Ukratko, redosljed je 1,2,3,4,1,2,3,4,1... Pažljivo proučite slike i pripadajuće test primjere.

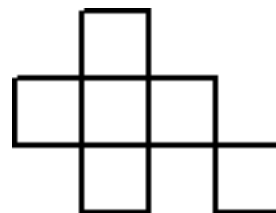
Primjer na slici: **to slagalica 8 25**



cs slagalica 13 25



cs slagalica 3 25



cs slagalica 6 25