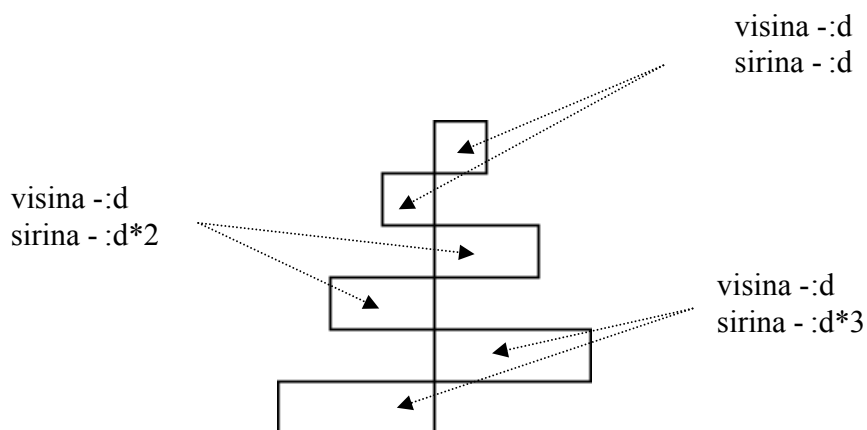


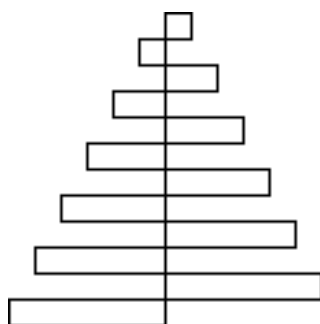
Napiši proceduru koja će crtati piramidu sa slike. Piramida je načinjena od ***n*** parova pravokutnika. Visina svih pravokutnika koji čine piramidu je ***d***. Širina prvog para pravokutnika je ***d***, drugog para pravokutnika je ***d*2***, trećeg para pravokutnika je ***d*3*** i tako do ***n***.

Naziv procedure: **piramida *n* *d***

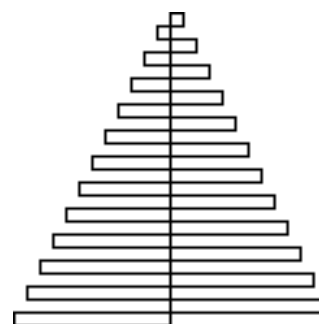
Naziv datoteke: **piramida.lgo**



cs piramida 3 20



cs piramida 6 10



cs piramida 12 5