

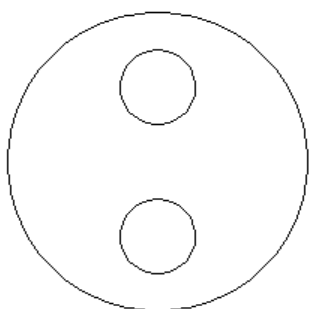
Logo – PODSKUPINA I

2. Zadatak POLOVI 40 bodova

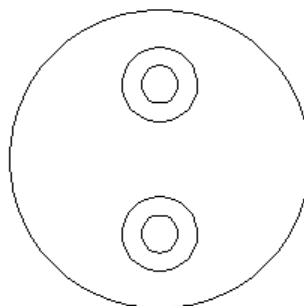
Napiši program **polovi :n :r :x** koji će nacrtati Zemlju (kružnica polumjera r) te sjeverni i južni pol (dva skupa koncentričnih kružnica). Jedan pol se sastoji od ukupno n koncentričnih kružnica. Najveća od njih je veličine $r/4$, a svaka sljedeća unutrašnja je manja za $(r/4)/n$. **Središta polova su međusobno okomito razmaknuta za x pixela**, a jednako su udaljena od središta Zemlje. **Središte Zemlje se poklapa sa središtem ekrana!**

Dobro prouči primjere:

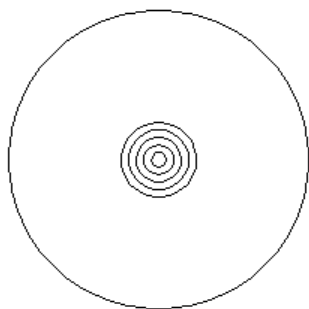
cs polovi 1 100 100



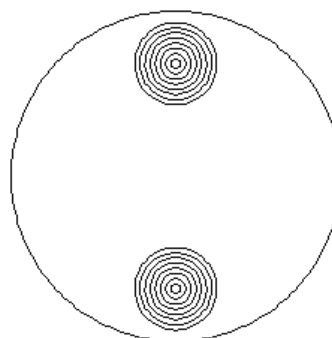
cs polovi 2 100 100



cs polovi 5 100 0



cs polovi 8 110 150



Naziv procedure: **polovi :n :r :x**

Naziv datoteke: **polovi.lgo**

