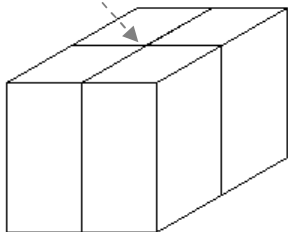


Napiši program **paket :a :b :c** koji će crtati paket visine :a, širine :b i dubine :c. Paket je potrebno omotati špagicama kako je prikazano na primjerima (špagice uvijek prolaze sredinom plohe). Osnovni kutevi koji se pojavljuju su 30,60 i 90 stupnjeva.

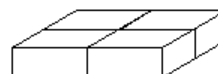
**Napomena:**

Početna točka crtanja (ne nužno i središte ekrana) se nalazi tamo gdje se dvije špagice križaju ( na gornjoj plohi ).

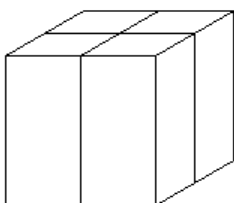
cs paket 100 100 100



cs paket 20 100 50



cs paket 100 100 60



cs paket 150 30 20



Naziv procedure: **paket :a :b :c**

Naziv datoteke: **paket.lgo**

\* **SKALA** na slici desno je u svim grafičkim zadacima u usporedbi sa test primjerima u omjeru **1:1** (kućica u kojoj piše 20 je kvadrat stranice 20 pixela, zatim ga slijedi "kornjača" te pokazivač miša )

