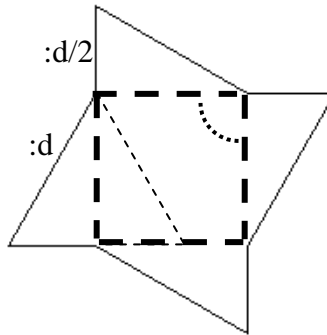


Napiši program koji će crtati okruglu pilu za rezanje kao na slici. Ta pila se sastoji od zupčastih dijelova koji su zapravo polovice jednakostraničnih trokuta stranice **:d**. Broj zubaca na toj pili određuje broj **:n**. Na slici dolje je 4 zubača (:n=4). Kut između zubaca određuje kut između visina trokuta (na slici su visine označene podebljanim isprekidanim linijama koje se inače ne vide). Tanka zakošena i isprekidana linija pokazuje drugi dio trokuta koji se inače ne vidi.

Naziv procedure: **pila :n :d**


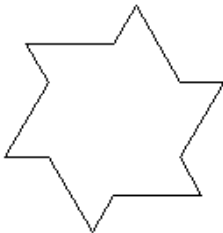
Naziv datoteke: **pila.lgo**



**Primjeri:**

cs pila 30 20

cs pila 6 50



cs pila 60 15

cs pila 10 40

