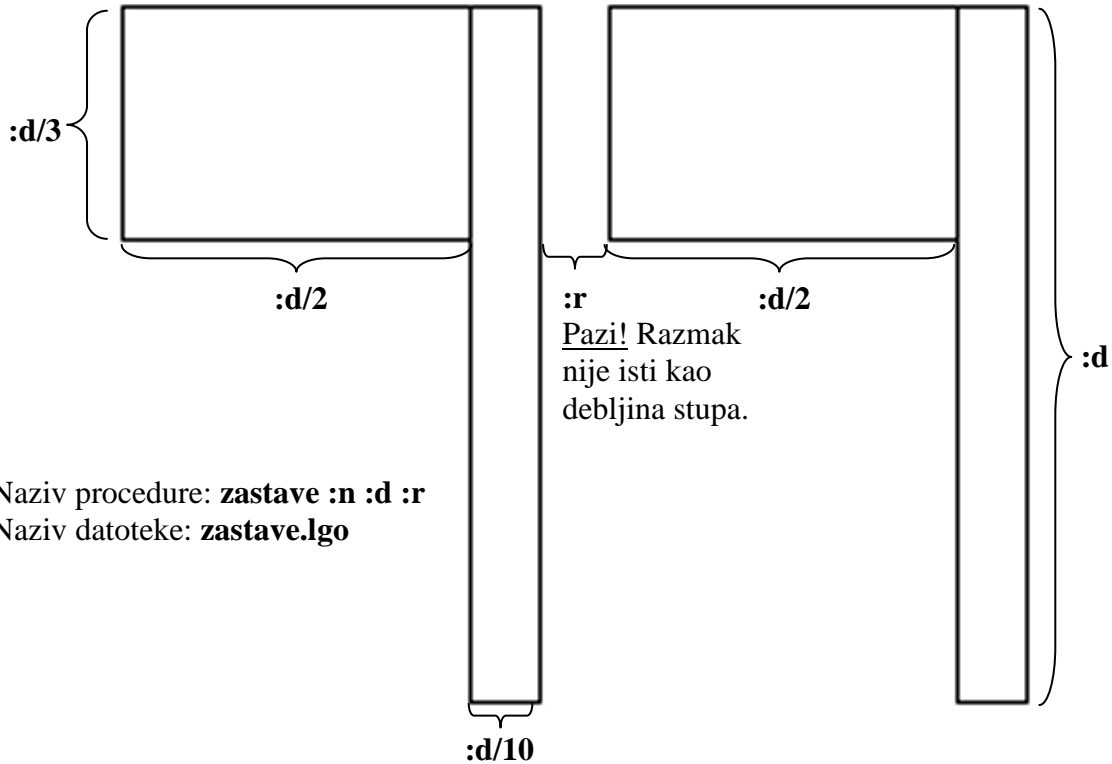


Pred mnogim svjetski važnim ustanovama pojavljuju se zastave različitih zemalja. Tvoj zadatak je da nacrtáš niz od **:n** zastava koje su razmaknute za **:r** pixela. Broj **:d** govori visinu stupa zastave i prema njemu se određuju ostale dimnezije zastave. Prouči sliku.

Na slici je broj zastava (:n) jednak 2, visina stupa (:d) je 200, a razmak (:r) je 20.

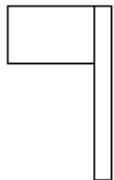


Naziv procedure: **zastave :n :d :r**

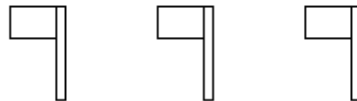
Naziv datoteke: **zastave.lgo**

**Primjeri:**

cs zastave 1 100 50



cs zastave 3 50 50



cs zastave 10 50 5

