

Logo – PODSKUPINA II

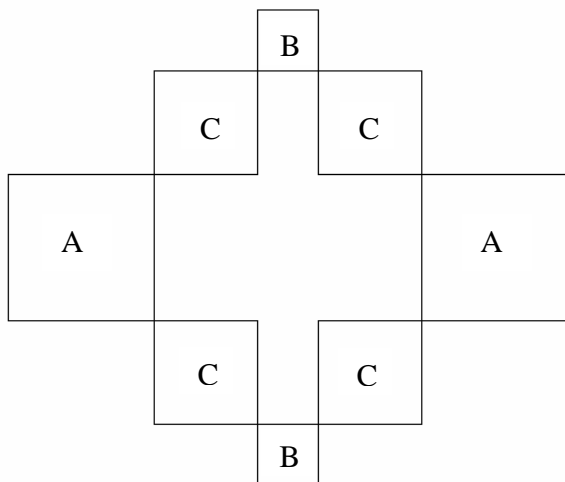
2. Zadatak

Mreza

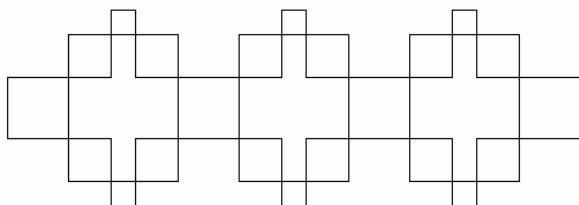
40 bodova

Napiši program MREZA :n :m :d1 :d2 koji će nacrtati mrežu kao na slici sa :n stupaca i :m redaka. Duljina stranice kvadrata označenih sa slovom „A“ je :d1, duljina stranice kvadrata označenog slovom „B“ je :d2, a duljina stranice kvadrata označenog slovom „C“ je aritmetička sredina duljina stranica kvadrata označenih sa „A“ i „B“.

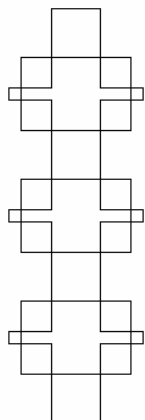
cs mreza 1 1 120 50




cs mreza 3 1 50 20



cs mreza 1 3 10 40



cs mreza 4 3 30 16



Naziv procedure: mreza :n :m :d1 :d2

Naziv datoteke: mreza.lgo