

Logo – PODSKUPINA I

1. Zadatak

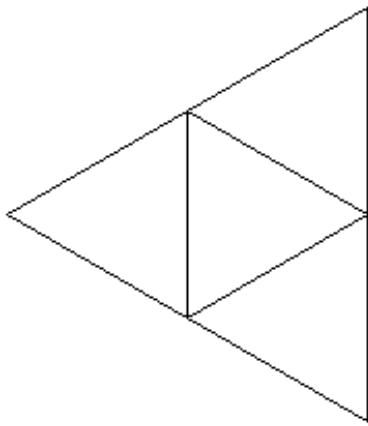
Zubi

20 bodova

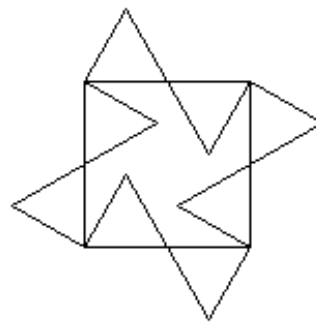
Napiši program **zubi :n :m :d** koji će crtati pravilni **:n-terokut** čije se stranice sastoje od niza od **:m zubaca jednoliko raspoređenih po duljini :d**. Neparni zupci se crtaju tako da gledaju izvan :n-terokuta, a parni gledaju prema unutra. Cjelokupna slika se treba nalaziti na desnoj strani ekrana, a crtanje kreće sa sredine ekrana te je početan smjer (heading) jednak 0.

Proučite primjere:

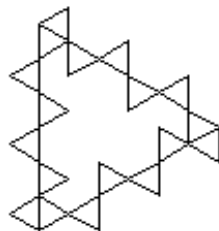
cs zubi 3 1 100



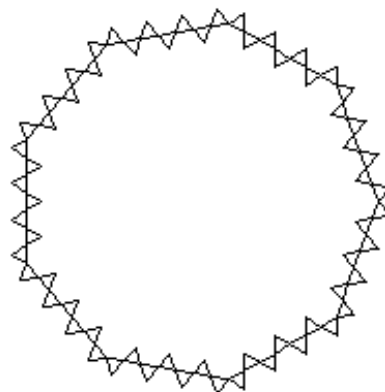
cs zubi 4 2 80



cs zubi 3 6 100



cs zubi 9 7 60



Napomena: U 40% test primjera varijabla **:m** će biti jednaka 1.

Naziv procedure: **zubi :n :m :d**

Naziv datoteke: **zubi.lgo**

- **SKALA** na slici desno je u svim grafičkim zadacima u usporedbi sa test primjerima **u omjeru 1:1** (kućica u kojoj piše 20 je kvadrat stranice 20 pixela, zatim ga slijedi "kornjača" te pokazivač miša)

