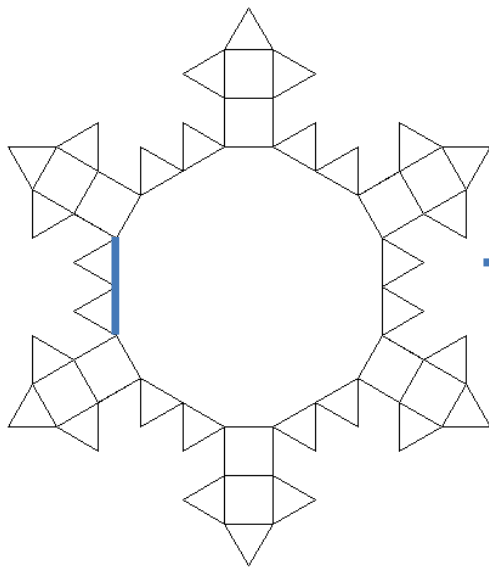




Napiši program PAHULJA :n :d koji će nacrtati pahulju sa :n iglica kao na slici. Sve crte pahulje imaju duljinu :d. Crtež se sastoji od dijelova kvadrata i dijelova jednakostraničnih trokuta. Pahulja je u obliku pravilnog $2n$ -terokuta sa stranicama naizmjenice dugačkim $2d$ i d . Podebljana stranica na slici lijevo treba biti duga $2d$ i mora biti okomita na donji rub ekrana. Broj n je veći od 2, a broj d je prirodni broj ili broj 0.



cs pahulja 6 40



cs pahulja 4 50



cs pahulja 9 30

