


Logo - AVENIRE

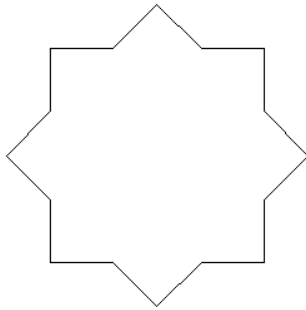
3. Zadatak

PLOCICE

Napiši program PLOCICE :n :k koji će nacrtati mrežu dviju vrsta pločica neobičnog oblika. U svakom redu ima točno :npločica (:n je neparan prirodni broj). Ukupno ima :nredaka. Donja lijeva pločica je uvijek oblika

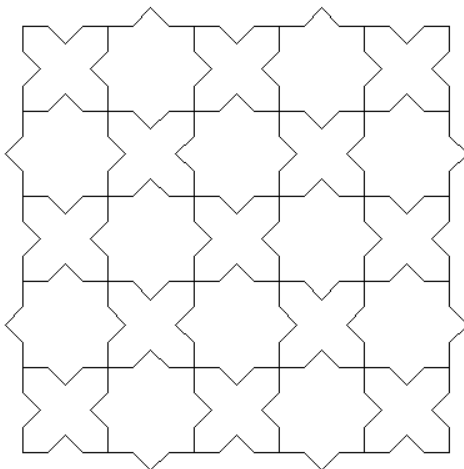


dok je druga pločica oblika



Sve pločice imaju rubove duljine :k.
Svi izbočeni kutovi pločica su pravi.

cs plocice 5 20



cs plocice 11 10

