

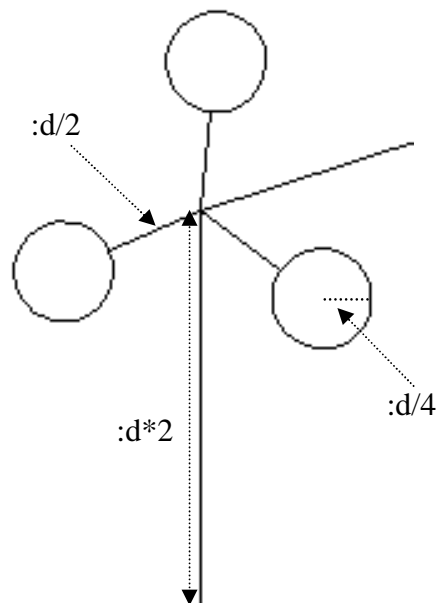
Logo – MINIĆI B

4. Zadatak

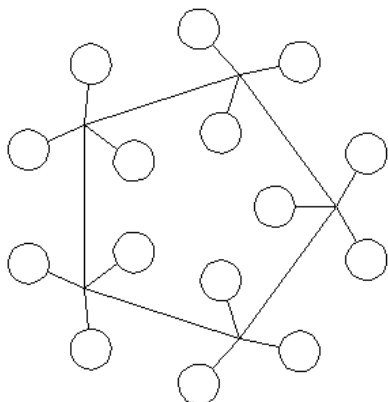
VIJENAC

Napiši program **VIJENAC :n :m :d** koji će nacrtati vijenac. Vijenac se sastoji od n -terokuta na čijim se vrhovima nalaze cvjetići s m latica. Duljine stranica označene su na slici desno. Položaj lika na ekranu nije bitan.

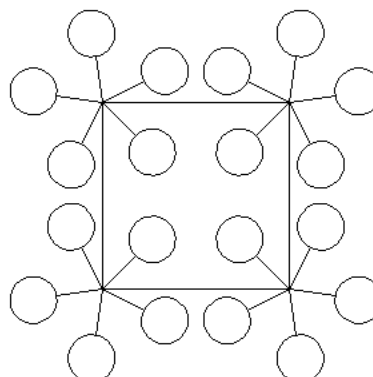
Program spremite pod nazivom **vijenac.lgo**.




cs vijenac 5 3 60



cs vijenac 4 5 70



cs vijenac 10 15 45



cs vijenac 20 10 25

