

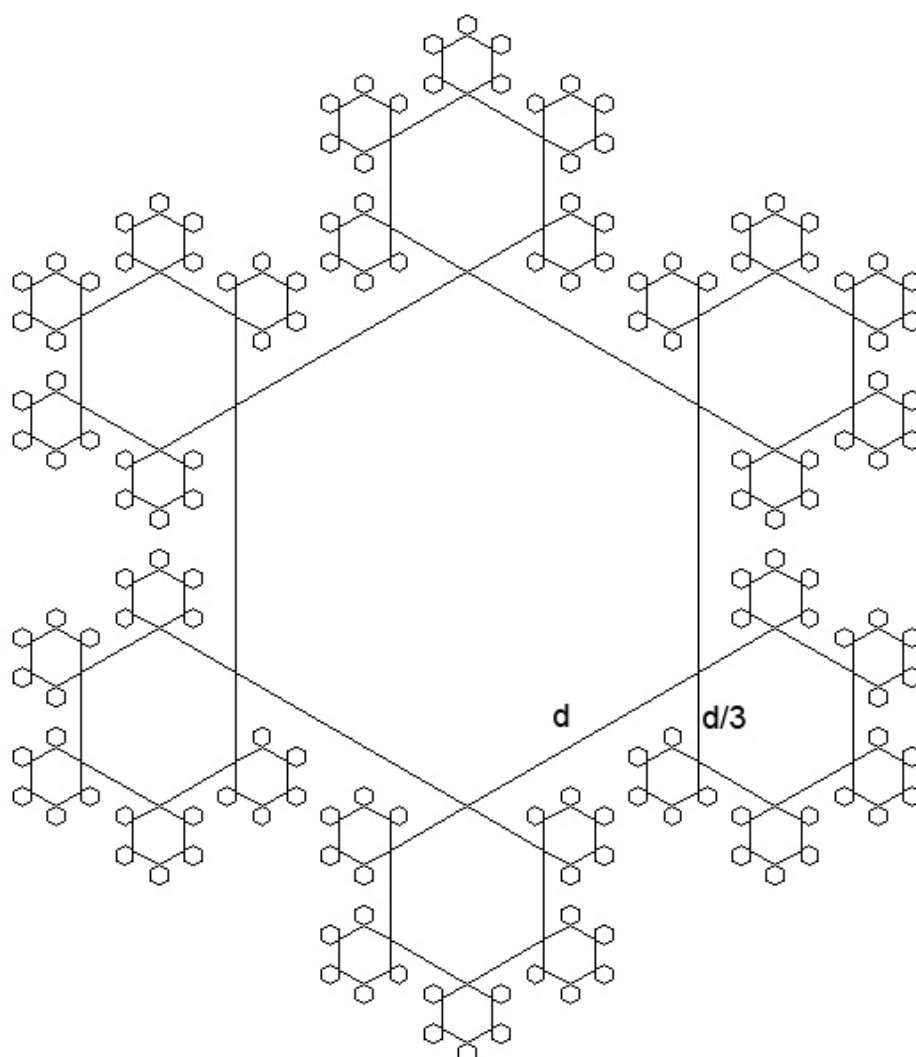
Logo – PODSKUPINA II

5. Zadatak

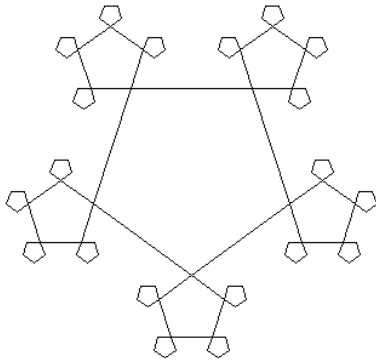
KRISTAL

Napiši program KRISTAL :n :m :d koji će nacrtati u sredini n-terokuta sa stranicama duljine d. Nad svakim vrhom n-terokuta crta se novi n-terokut sa stranicama duljine $d/3$. Na vrhovima manjeg n-terokuta crtaju se ponovo n-terokuti sa stranicama duljine $d/9$ osim nad vrhom koji je spojen s prethodnim mnogokutom. Mnogokuti se trebaju nacrtati u m različitih veličina.

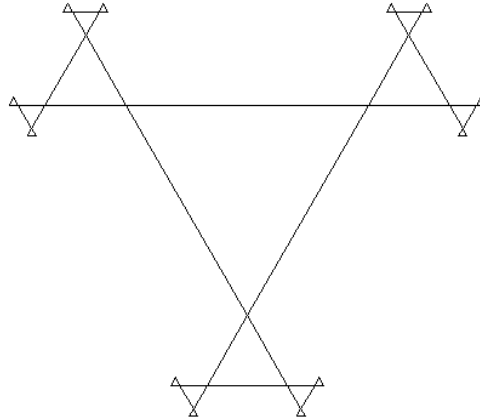
cs kristal 6 4 150



cs kristal 5 3 100



cs kristal 3 4 200



Cs kristal 6 6 100

