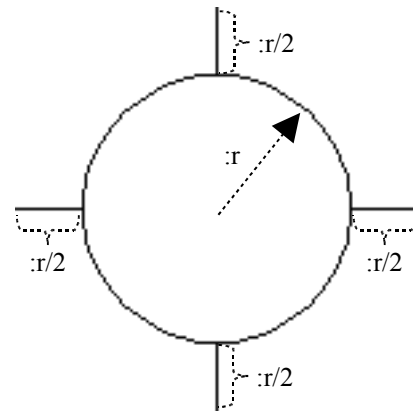
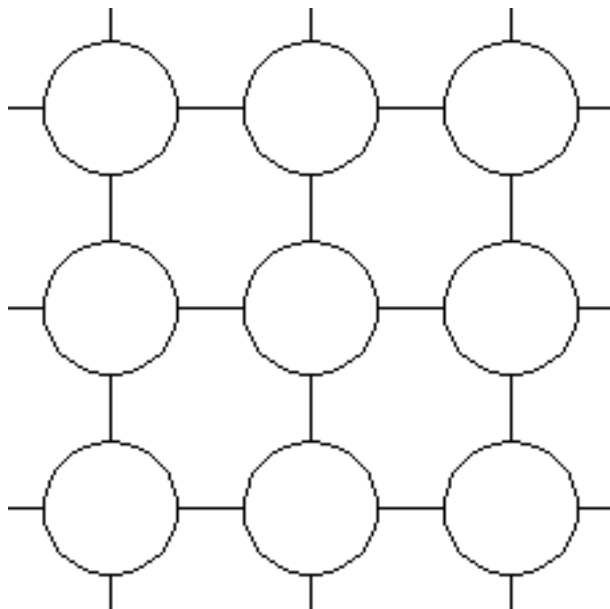


Napišite program **mreža** **:m :n :r** koji crta mrežu kao na slici. Mreža je izgrađena od elemenata istovjetnog oblika. Svaki je element načinjen od kružnice polumjera **:r** i četiri linije duljine **:r/2**. U svakom retku ima **:n** elemenata i ukupno ima **:m** redaka. **Pogledaj sliku desno!!!**

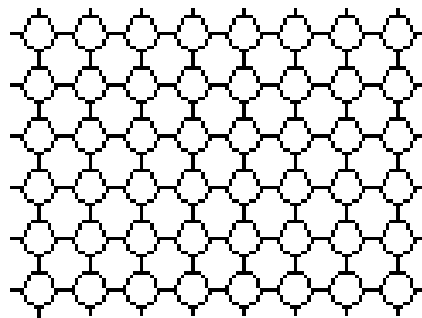


Naziv procedure: **mreza**  
Naziv datoteke: **mreza.lgo**

cs mreza 3 3 25



cs mreza 6 8 15



cs mreza 1 4 20

