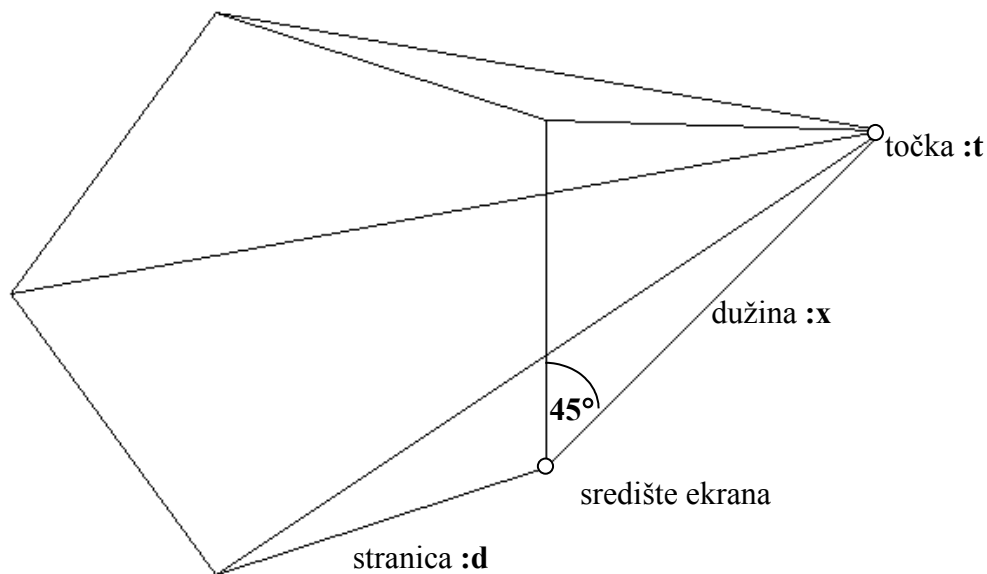


Zadatak je nacrtati piramidu čija je baza :n-terokut stranice :d. Svaki vrh tog :n-terokuta je povezan sa točkom :t što čini bočne bridove piramide. Točka :t udaljena je od središta ekrana za duljinu :x i to pod 45° .

Prouči sliku piramide sa peterokutnom bazom:

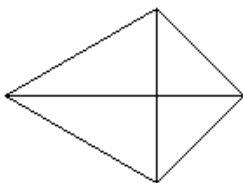


Naziv procedure: **piramida :n :d :x**

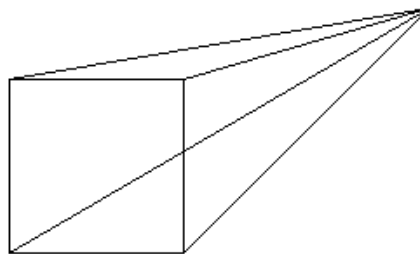
Naziv datoteke: **piramida.lgo**

Primjeri:

cs piramida 3 100 71



cs piramida 4 100 200



cs piramida 36 10 60

