

MALA OLIMPIJADA, Logo – MINIĆI B

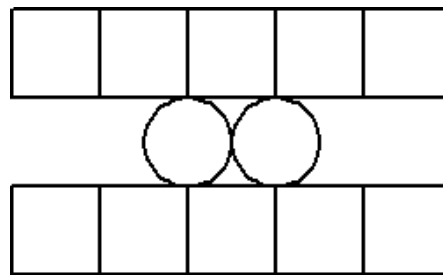
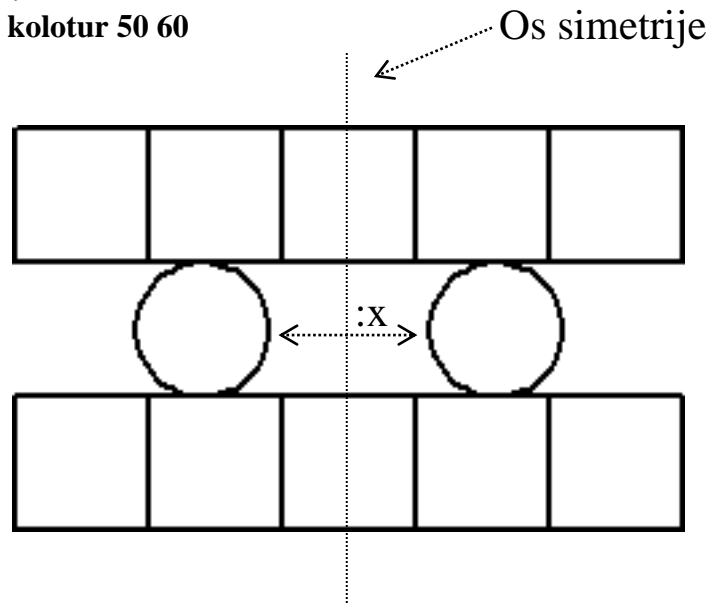
3. Zadatak

KOLOTUR

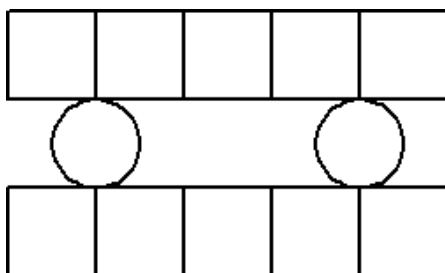
60 bodova

Napišite proceduru koja crta lik sa slike. Procedura se mora zvati **kolotur :d :x**. Slika je načinjena od dva retka kvadratića. U svakom retku je pet kvadratića kojima je duljina stranice **:d**. Gornji redak je od donjeg retka udaljen **:d**. Između gornjeg i donjeg retka potrebno je smjestiti dvije kružnice. Udaljenost između kružnica je **:x**. Kružnice su jednako udaljene od osi simetrije koja je označena na slici.

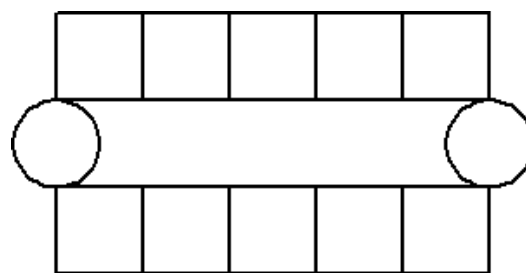
Test primjer na slici: **cs kolotur 50 60**



cs kolotur 50 0



cs kolotur 50 100



cs kolotur 50 200