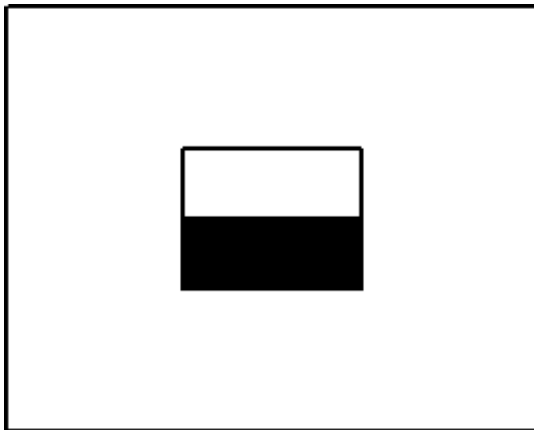
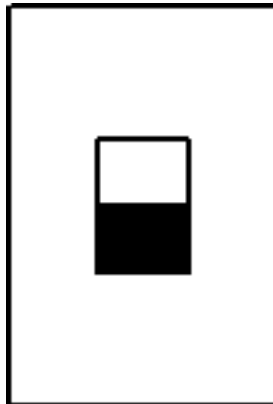


MALA OLIMPIJADA, Logo – MINIĆI B

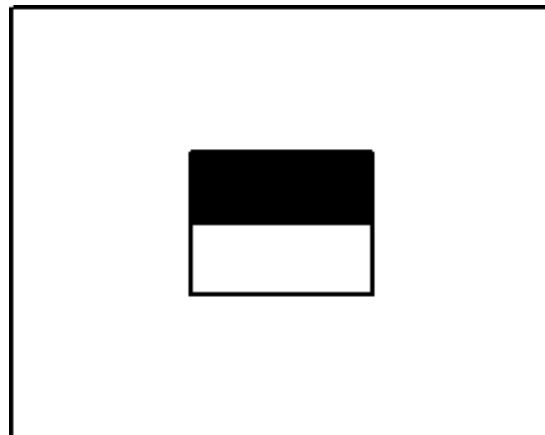
4. Zadatak **SKLOPKA** **80 bodova**

Napišite proceduru koja crta **sklopku** sa slike. Procedura se mora zvati **sklopka :a :b :x**. Sklopku čine dva pravokutnika i to jedan unutar drugoga. Visina većeg pravokutnika je **:a**, širina je **:b**. Visina unutarnjeg pravokutnika je $:a/3$, širina je $:b/3$. Manji, unutarnji, pravokutnik je crtom po sredini podijeljen na dva dijela. Ako je varijabla **:x jednaka nuli (0)** potrebno je bojom ispuniti **donji** dio manjeg pravokutnika. Ako je varijabla **:x jednaka jedinici (1)** potrebno je bojom ispuniti **gornji** dio manjeg pravokutnika. Manji, unutarnji pravokutnik, potrebno je nacrtati **točno na sredini** unutar većeg pravokutnika. Pažljivo proučite slike i test primjere.

Test primjer na slici: **cs sklopka 150 100 0**



cs sklopka 200 250 0



cs sklopka 200 250 1