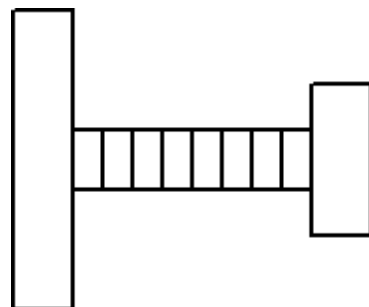
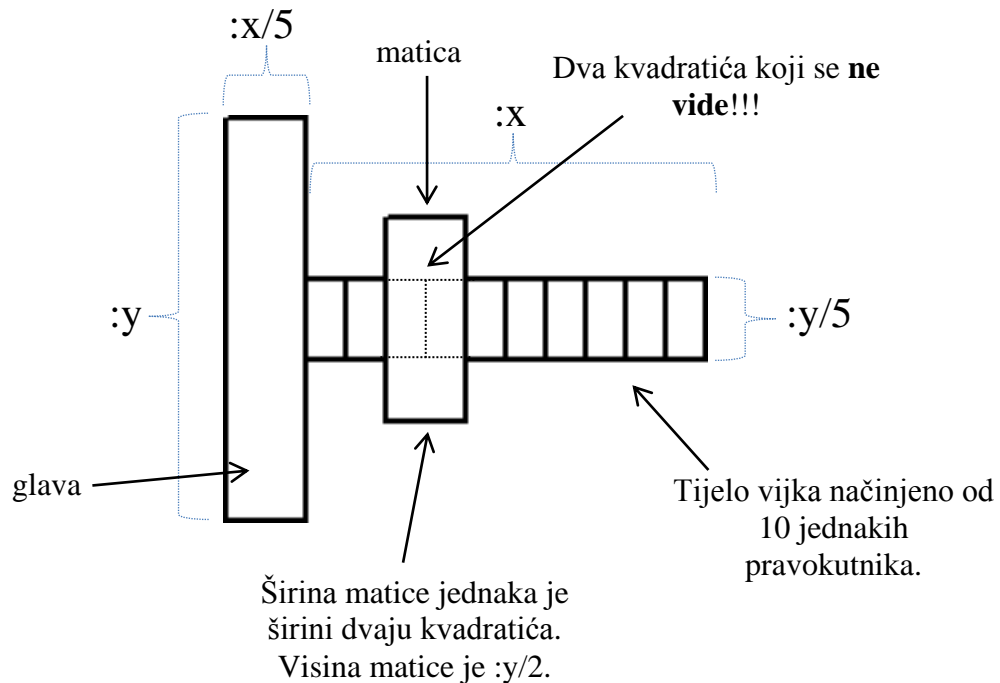


**MALA OLIMPIJADA, Logo – MINIĆI B**

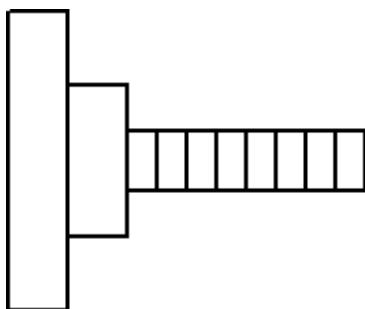
**4. Zadatak VIJAK 80 bodova**

Napiši proceduru koja crta vijak sa slike. Procedura se mora zvati **vijak :x :y :l**. Vijak je načinjen od glave, tijela i matice čije su dimenzije ucrtane na slici. Tijelo vijka je podijeljeno na 10 dijelova, pravokutnika, jednakih dimenzija. Matica je od glave vijka **udaljena za :l pravokutnika**. Pravokutnici na kojima je matica se ne vide (pogledaj sliku).

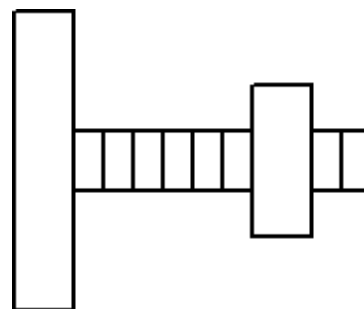
Test primjer na slici: **cs vijak 150 150 2**



cs vijak 150 150 8



cs vijak 150 150 0



cs vijak 150 150 2