

Logo – MINIĆI B

3. Zadatak

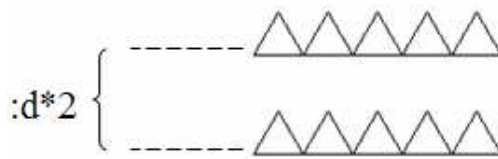
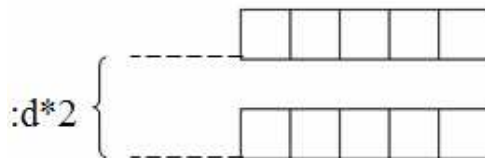
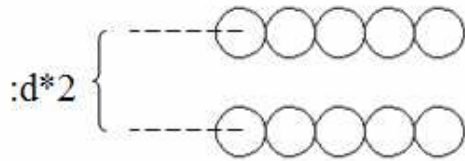
MREZA

60 bodova

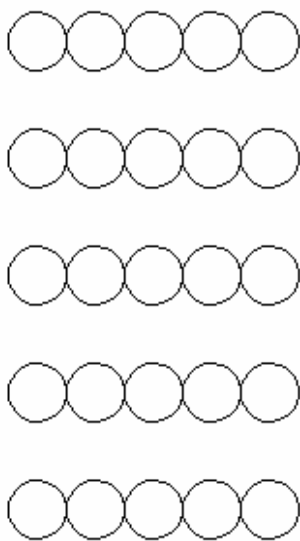
Napiši program MREZA :n :m :d :p koji će nacrtati mrežu od :n redaka s :m stupaca.

Ukoliko je :p = 1, mreža se sastoji od kvadrata stranice :d. Ukoliko je :p = 2, mreža se sastoji od trokuta stranice :d, a ukoliko je :p = 3 mreža se sastoji od kružnice radijusa :d.

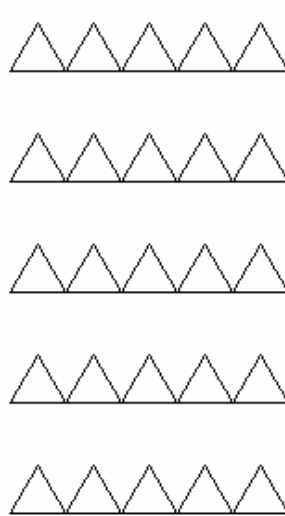
Udaljenost između početnih točaka crtanja dva reda je :d * 2, dok između dva susjedna lika u jednom retku nema razmaka (vidi sliku).



cs mreza 5 5 30 3



cs mreza 5 5 30 2



cs mreza 5 5 30 1

