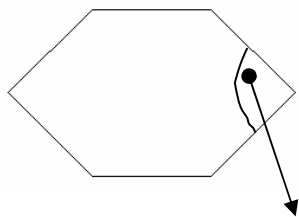
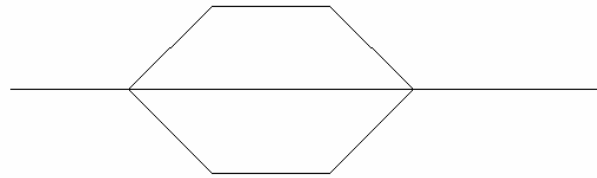


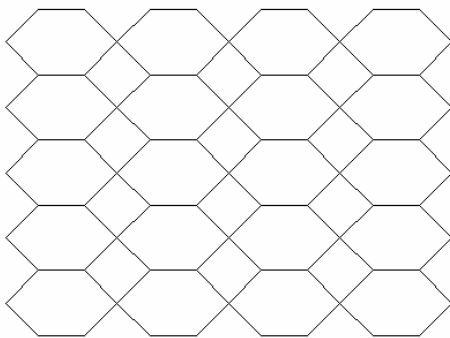
Napiši program MREZA :n :m :a :kut koji će nacrtati mrežu šesterokuta. Mreža ima :n stupaca i :m redaka. Duljina svake stranice šesterokuta je :a. Šesterokut je osnosimetričan po vodoravnoj dijagonali. Kut koji je zadan i os simetrije objašnjeni su na slici.  $0^\circ < \text{kut} <= 180^\circ$



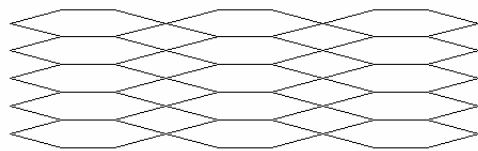
kut



cs mreza 4 5 40 90



cs mreza 3 5 50 30



cs mreza 6 2 50 150

